

《新高中經濟學探索》(第三版)

階段評估(樣本)

姓名：_____

班別：_____ ()

30 分鐘完卷

分數
24

第 5 冊：涵蓋課次

19. 經濟表現的量度 (I) — 本地生產總值與本地居民總收入
20. 經濟表現的量度 (II) — 國民收入統計數字和一般物價水平

說明

1. 本評估共分為兩部分：(I) 多項選擇題和 (II) 短題目。
2. 全部試題均須回答。
3. 必須把答案寫在預留的空位內。

(I) 多項選擇題 (8 分)

本部共有 8 題，選出每題的**最佳**答案。

1. 以下哪項會包括在某經濟本地生產總值的計算之內？
 - A. 某中學生收取的獎學金
 - B. 一名長者使用政府高齡津貼來購買本地種植水果的開支
 - C. 一名學生透過轉售某歌手的演唱會門票所賺取的差價
 - D. 政府為融資建設新市鎮所發行的全新債券的價值

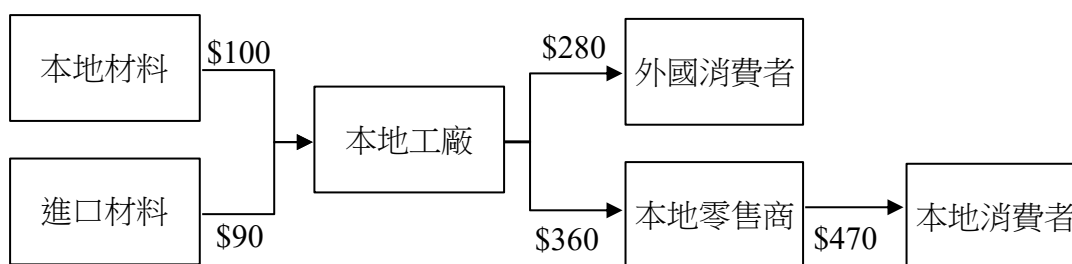
2. 參閱下列某國本地生產總值 (GDP) 的資料。

成分	百萬元
私人消費開支	222
本地固定資本形成淨值	260
存貨改變	- 50
政府消費開支	300
本地物品出口	80
物品轉口	14
物品進口總值	21
服務淨出口	75
海外要素收入淨值	100
折舊	70
間接稅	65

以市價計算的本地生產總值是 _____ 百萬元。

- A. 880
- B. 885
- C. 950
- D. 1,050

細閱以下有關某經濟中某物品的生產鏈，然後回答題 3 及題 4。



3. 本地工廠對該經濟的本地生產總值（以市價計算）的貢獻是多少？

- A. \$450
- B. \$530
- C. \$660
- D. \$740

4. 假設以上生產鏈已包括給予本地零售商\$80的補貼。以上生產鏈對該經濟的本地生產總值（以要素成本計算）的貢獻是多少？

- A. \$560
- B. \$640
- C. \$660
- D. \$740

5. 在計算香港本地居民總收入（GNI）時，下列哪項會從香港的本地生產總值中扣除？

- A. 一位意大利顧問在港工作 15 個月所收取的薪金
- B. 一位香港居民從持有某澳洲公司的股票所獲發的股息
- C. 一家香港娛樂公司支付給一隊韓國流行音樂組合作為演唱會表演嘉賓的費用
- D. 一位香港居民將其在地內的物業出租給內地居民所獲得的租金收入

6. 假設某封閉經濟只生產白米和汽車。第一年和第二年的產量如下：

年	白米產量 (單位)	白米的單位價格 (\$)	汽車產量 (單位)	汽車的單位價格 (\$)
1	35	7	29	8
2	30	6	40	9

根據上表，我們可得出以下結論：由第1年至第2年，

(1) 名義本地生產總值上升了。

(2) 實質本地生產總值下降了。

(3) 生活成本上升了。

A. 只有(1)、(2)

B. 只有(1)、(3)

C. 只有(2)、(3)

D. (1)、(2)及(3)



7. 下表顯示某經濟的一些數據。

	增長率	
	2024	2025
名義本地生產總值	4%	3%
一般價格水平	0%	-1%
人口	2%	0%

下列哪項有關該經濟的陳述是正確的？

A. 2025年的人口減少了。

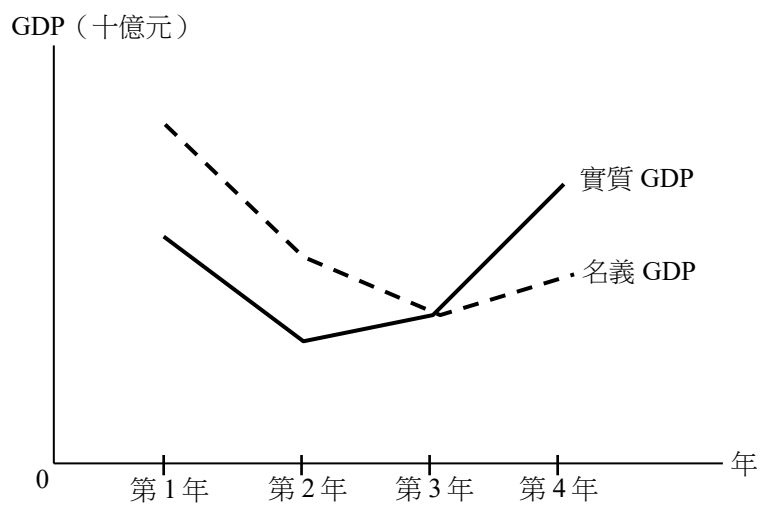
B. 2025年名義GDP的增長率比實質GDP高。

C. 2025年的人均名義本地生產總值與2024年相同。

D. 2025年的實質本地生產總值上升了。



8. 下圖顯示某經濟的本地生產總值（GDP）。



以下哪項有關該經濟的陳述是正確的？

- A. 第1年至第2年間出現通脹。
- B. 第3年是基年。
- C. 第2年至第4年間，價格水平下降。
- D. 第4年的本地生產總值平減物價指數大於100。



《新高中經濟學探索》(第三版)

階段評估 (樣本)

姓名： _____

班別： _____ ()

40 分鐘完卷

分數
45

第 5 冊：涵蓋課次

- | | |
|--|----------------------------|
| 19. 經濟表現的量度 (I) — 本地生產
總值與本地居民總收入 | 22. 總需求與總供應 (I) — 基本概念 |
| 20. 經濟表現的量度 (II) — 國民收入
統計數字和一般物價水平 | 23. 總需求與總供應 (II) — 產出水平的決定 |
| 21. 宏觀經濟問題 | 24. 政府收入、開支和預算 |
| | 25. 財政政策 |

說明

1. 本評估共分為兩部分：(I) 多項選擇題和 (II) 短題目和結構題。
2. 全部試題均須回答。
3. 必須把答案寫在預留的空位內。

(I) 多項選擇題 (10 分)

本部共有 10 題，選出每題的**最佳**答案。

1. 細閱以下某經濟的數據。

成分	百萬元
私人消費開支	500
本地固定資本形成淨值	260
存貨減少	100
政府消費開支	430
物品出口總值	370
物品轉口	140
物品進口總值	210
服務淨出口	850
折舊	70
間接稅	65

以市價計算的本地生產總值是 _____ 百萬元。

- A. 2,100
- B. 2,170
- C. 2,235
- D. 2,310

2. 以下哪項並不包括在香港該年度的海外要素淨收入的計算之中？

- A. 一位英國居民從持有香港某上市公司的股票賺獲的股息
- B. 一位印度顧問在香港某資訊科技公司工作六個月所收取的薪金
- C. 一位香港居民從自置的澳洲住宅物業賺取的租金收入
- D. 一位英國舞蹈員在香港某劇院工作一年所得的收入

3. 下表顯示某經濟於某年度的本地生產總值資料。

	增長率 (相對於去年)
實質本地生產總值	-1.3%
名義本地生產總值	-2.4%
人口	-3.1%

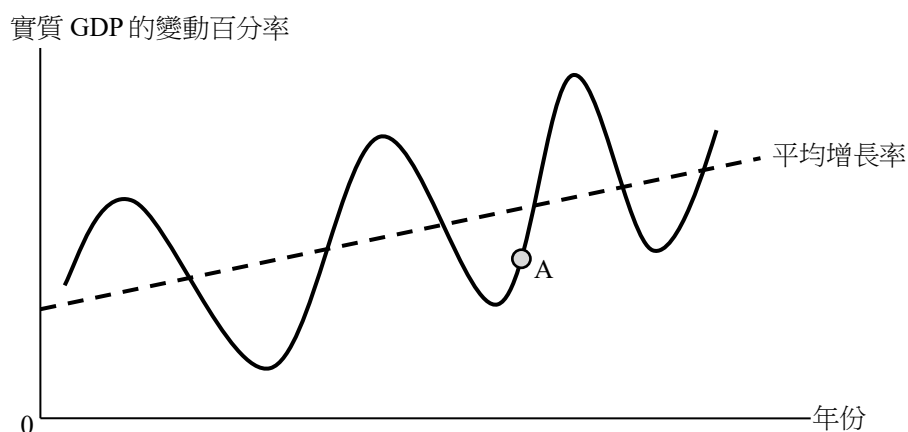
根據以上資料，我們可以得出結論如下：在該年度，物價水平 _____，而人均名義本地生產總值 _____。

- A. 上升了……增加了
- B. 上升了……減少了
- C. 下降了……增加了
- D. 下降了……減少了

4. 假設一些退休人士重返勞動市場，每週兼職工作少於 30 小時。結果，香港的失業率 _____。

- A. 會上升
- B. 會下降
- C. 會維持不變
- D. 未能判斷

5. 細閱下圖。



當某經濟在 A 點運作時，該經濟會出現以下哪些現象？

- (1) 存貨水平正在上升。
- (2) 貨幣的實質價值正在下降。
- (3) 勞工就業水平正在下降。
- (4) 廠商的商業信心正在增加。

- A. 只有(1)、(2)
- B. 只有(1)、(3)
- C. 只有(2)、(4)
- D. 只有(3)、(4)



6. 以下哪些屬於香港的間接稅？

- (1) 薪俸稅
- (2) 酒店房租稅
- (3) 飛機乘客離境稅
- (4) 一般銷售稅

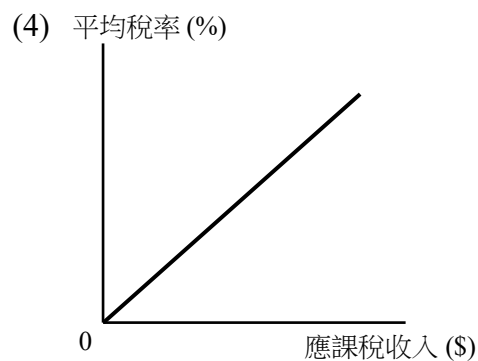
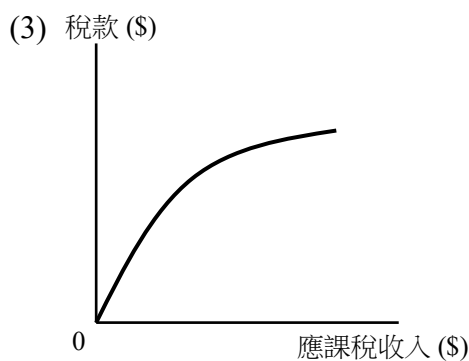
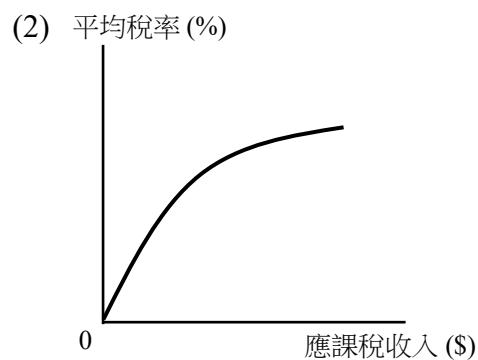
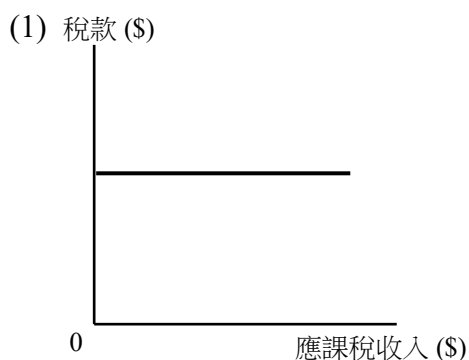
- A. 只有(1)、(2)
- B. 只有(2)、(3)
- C. 只有(1)、(3)、(4)
- D. 只有(2)、(3)、(4)



7. 以下哪項有關失業的陳述是正確的？
- A. 當短期總產出減少時，自然失業率會上升。
 - B. 當某經濟正處於經濟週期的高峰時，其自然失業率可能是負數。
 - C. 周期性失業率上升意味着實際失業率上升。
 - D. 當某經濟正處於長期均衡時，其實際失業率是零。



8. 以下哪圖描繪累進稅？



- A. 只有(1)、(2)
- B. 只有(1)、(3)
- C. 只有(2)、(4)
- D. 只有(3)、(4)



9. 假設甲國增加了入境旅客的配額。以下哪項會抵銷其對該國總產出的影響？

- A. 政府減少對農業的生產補貼。
- B. 政府提高薪俸稅免稅額。
- C. 廠商對該國的經濟前景變得樂觀。
- D. 業主降低其辦公室和零售店鋪的租金。

10. 假設政府向住戶徵收較少的稅款，並同時削減相同金額的政府開支。這對總需求的影響屬_____。

- A. 擴張性
- B. 收縮性
- C. 中性
- D. 未能決定

