

# 目錄

## 模擬試卷（2026年3月版）（樣本）

試卷一	1
試卷二	18

## 中四期終試卷（2026年3月版）（樣本）

試卷一	41
試卷二	53



培進經濟科  
香港中學文憑考試  
模擬試卷（2026年3月版）（樣本）

經濟試卷一

一小時完卷

說明

1. 當試場主任宣布開卷後，考生應檢查卷內題目是否齊全。在最後一題後應有「**試卷完**」的字眼。
2. 本試卷各題佔分相等。
3. 本試卷全部試題均須回答。
4. 每題只可填寫一個答案，若填寫多於一個答案，則該題不給分。
5. 答案錯誤，不另扣分。

作者：潘勁勉、區政廉

本試卷共有 45 題，選出每題的最佳答案。

1. 美儀計劃於六月到韓國旅遊，並以\$5,000 購買來回機票。她剛獲一份短期工作的邀請，底薪為\$50,000；如果她接受這工作，便要把韓國行程延遲。  
根據以上資料，以下哪幾項陳述是正確的？
  - (1) 若她可免費更改航班日期，她接受該短期工作的成本會下降。
  - (2) 若該短期工作在底薪上額外提供花紅，她到韓國旅遊的成本會上升。
  - (3) 若韓國政府由七月起徵收旅客入境稅，她按原定計劃到韓國旅遊的成本會維持不變。
  - A. 只有(1)、(2)
  - B. 只有(1)、(3)
  - C. 只有(2)、(3)
  - D. (1)、(2)及(3)
  
2. 與市場經濟相比，\_\_\_\_\_。
  - (1) 物品與服務在計劃經濟較不易分配予價值最高的使用者
  - (2) 計劃經濟的本地生產總值傾向較低
  - (3) 計劃經濟的收入分配較平均
  - A. 只有(1)
  - B. 只有(1)、(2)
  - C. 只有(2)、(3)
  - D. (1)、(2)及(3)
  
3. 以下哪項／些屬於規範性陳述？
  - (1) 把長者優惠票價由劃一\$2 改為原本票價的 20%，會增加長者的生活費用。
  - (2) 交通補貼計劃的變動只會影響 60 歲以上勞工的失業率。
  - (3) 為長者提供免費疫苗比提供交通補貼更重要。
  - A. 只有(1)
  - B. 只有(3)
  - C. 只有(1)、(2)
  - D. 只有(2)、(3)

4. 以下哪項有關利息的陳述是正確的？
- 在沒有銀行系統的經濟，利息不會存在。
  - 即使某人毋須借款消費，利息對他來說仍是成本。
  - 利率上升會增加現時消費。
  - 如果政府經常干預市場，該經濟的利率通常較低。
5. 在天然森林中發現的野生松露是
- 經濟學中的土地，因為它們沒有地域流動性。
  - 免費物品，因為人們沒有種植它們的動力。
  - 經濟物品，假如人們須訓練豬隻來搜尋及採集它們。
  - 資本物品，假如廠商把它們發酵並製成其他產品。
- 只有(1)、(2)
  - 只有(2)、(3)
  - 只有(3)、(4)
  - 只有(1)、(4)
6. 以下哪項會令某經濟的勞力供應減少，而平均勞工生產力上升？
- 向獲本地大學錄取的學生發放更多獎學金。
  - 更多廠商在客戶服務中採用人工智能機械人。
  - 政府收緊失業援助金的申請要求。
  - 建造業輸入勞工計劃的未用配額增加。
7. 下表顯示某經濟本地生產總值的分布。

	第 1 年	第 2 年
初級生產	1.5%	1.4%
二級生產	20%	20.1%
三級生產	78.5%	78.5%
總計	100%	100%

如果第 2 年的本地生產總值增加 3.1%，與第 1 年相比，

- 所有生產類別的勞工生產力在第 2 年均上升了。
- 從事二級生產的勞工比例在第 2 年上升了。
- 初級生產的生產總值在第 2 年必然下降了。
- 三級生產的生產總值在第 2 年維持不變。

8. 香港甲廠商及乙廠商的資料如下。

	甲廠商	乙廠商
東主數目	20	5
東主的債務責任	無限	有限
向公眾發行股票	不可能	不可能

根據上述資料，我們可得出結論如下：

- A. 甲廠商擁有的資金比乙廠商少。
  - B. 兩家廠商均毋須向公眾披露財務資料。
  - C. 乙廠商的東主繳交的利得稅比甲廠商多。
  - D. 兩家廠商均沒有把所有權與管理權分開。
9. 下列哪項會提高香港勞工的職業流動性？
- A. 勞工處提供更多有關職位空缺與入職要求的資訊。
  - B. 香港更趨向知識型經濟。
  - C. 更多學生在畢業前接受專業訓練。
  - D. 中九龍繞道的落成大幅縮短通勤時間。
10. 下表顯示某完全競爭市場中某廠商的成本與產出關係。該廠商的固定成本是\$10，而市場價格是\$19。

產出（單位）	總成本（\$）
1	23
2	38
3	55
4	74
5	95
6	118

假設固定成本增加\$2，而每單位的邊際成本均下降\$4。結果，該廠商利潤會\_\_\_\_\_。

- A. 維持不變
- B. 增加\$12
- C. 增加\$16
- D. 增加\$18

11. 人工智能 (AI) 迅速發展，導致運作所需的電腦記憶體晶片的價格大幅上升。在這情況下，AI 數據中心會
- 享有外部規模經濟。
  - 承受外部規模負經濟。
  - 享有內部規模經濟。
  - 承受內部規模負經濟。

12. 下表顯示物品 X 的供需表。

單位價格 (\$)	10	12	14	16	18
需求量 (單位)	600	550	500	450	400
供應量 (單位)	500	500	500	500	500

假設物品 X 的需求減少而供應增加。結果，物品 X 的均衡價格 \_\_\_\_\_，而均衡數量 \_\_\_\_\_。

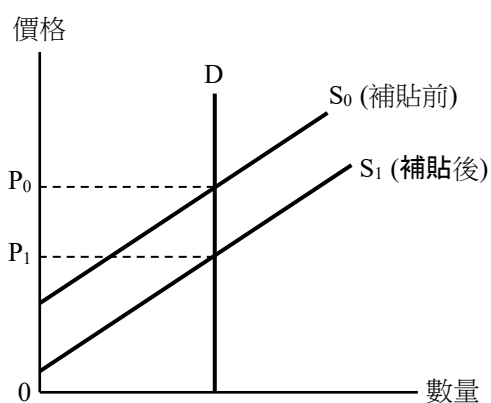
- 會下降……會增加
  - 會下降……可能上升、減少或維持不變
  - 會上升……會增加
  - 會上升……可能增加、減少或維持不變
13. 下列哪項會提高香港人對汽油私家車的需求價格彈性？
- 汽油私家車的平均價格下降。
  - 汽油私家車保險保費上升。
  - 香港的電動車充電設施增加。
  - 電動車牌費上調至汽油車的 70%。
14. 假設其他因素不變，當物品 X 價格下降時，下列哪情況會導致物品 Y 的總支出下降？
- 物品 X 與物品 Y 是替代品。
  - 物品 X 與物品 Y 是輔助品。
  - 物品 X 與物品 Y 屬聯合供應，而物品 Y 的需求屬低彈性。
  - 物品 X 與物品 Y 屬競爭性供應，而物品 Y 的需求屬彈性。
- 只有(1)
  - 只有(1)、(3)
  - 只有(2)、(3)
  - 只有(2)、(4)

15. 假設 X 國的汽油車的供應曲線向右上傾斜，而政府對汽油車生產實施有效配額。當政府減少該有效配額時，
- A. 汽油車生產商的總收入會上升。
  - B. 汽油車市場的生產者盈餘會上升。
  - C. 電動車市場的總社會盈餘會上升。
  - D. 電動車市場的消費者盈餘會下降。
16. 在甲國，由於人才入境計劃吸引不少潛在住宅物業買家，令不少地產發展商把更多資金轉為投資住宅物業市場。
- 這反映了價格的 \_\_\_\_\_ 功能，因為 \_\_\_\_\_。
- A. 配給功能……更多買家能夠買到住宅物業
  - B. 配給功能……住宅物業售予價值最高的用家
  - C. 分配功能……更多建築資源用於興建住宅物業
  - D. 分配功能……發展商可透過興建更多住宅物業賺取更高利潤
17. 某網上商店推出優惠，豁免每張訂單的定額運費。下列哪幾項陳述是正確的？
- (1) 高價物品相對低價物品的銷售比例會下降。
  - (2) 高價物品銷售量會減少。
  - (3) 網上商店的利潤可能上升。
- A. 只有(1)、(2)
  - B. 只有(1)、(3)
  - C. 只有(2)、(3)
  - D. (1)、(2)及(3)
18. 2025 年底，Netflix 提出收購華納兄弟影業及其串流平台。以下哪項最不可能是該擴張的動機？
- A. 透過業務多元化來分散風險
  - B. 追求更高市場佔有率
  - C. 追求公司更高利潤
  - D. 享有規模經濟

19. 以下哪項關於生產不足的陳述是正確的？

- (1) 自由市場可能會出現生產不足。
  - (2) 當市場達至均衡時，生產不足便不會出現。
  - (3) 當出現生產不足時，最後一單位的邊際社會成本會低於邊際社會利益。
- A. 只有(1)、(2)  
B. 只有(1)、(3)  
C. 只有(2)、(3)  
D. (1)、(2)及(3)

20. 下圖顯示某物品的供應和需求曲線。假設政府對其生產提供從量補貼。



以下哪些關於上述補貼的陳述是正確的？

- (1) 生產者沒有獲得任何補貼得益。
  - (2) 提供補貼不會導致效率損失。
  - (3) 最後一單位的邊際成本由  $P_0$  下降至  $P_1$ 。
- A. 只有(1)、(2)  
B. 只有(1)、(3)  
C. 只有(2)、(3)  
D. (1)、(2)及(3)

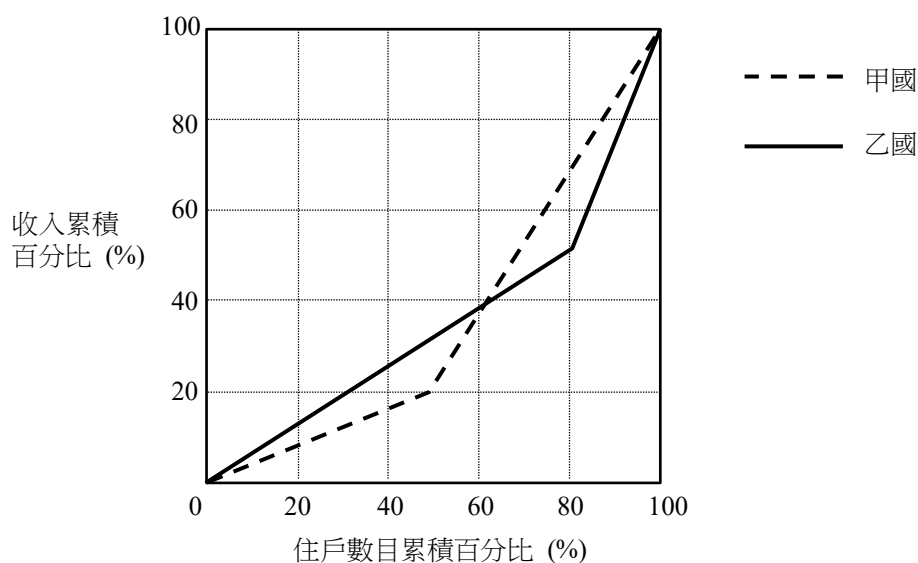
21. 假設政府計劃興建新的高架道路，將為該住宅區帶來噪音污染。

根據上述資料，以下哪些情況會達至效率？

- (1) 建築時間短於預期。
- (2) 在高架道路上安裝有效隔音屏障。
- (3) 該區的平均樓價上升。

- A. 只有(1)、(2)
- B. 只有(1)、(3)
- C. 只有(2)、(3)
- D. (1)、(2)及(3)

22. 細閱以下甲國和乙國的洛倫茨曲線。

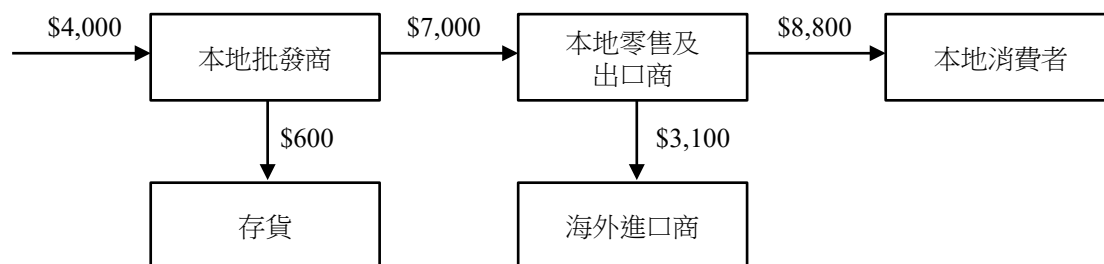


根據以上資料，我們得出結論如下：

- (1) 甲國的收入分布比乙國平均。
- (2) 甲國最低的 20%住戶的收入佔其國家的總收入的比例低於乙國。
- (3) 乙國最高的 20%住戶的總收入高於甲國最高的 20%住戶。

- A. 只有(1)
- B. 只有(2)
- C. 只有(1)、(3)
- D. 只有(2)、(3)

23. 下圖顯示某經濟中的玩具生產鏈。



假設以上生產鏈涉及\$4,000 進口原料。以上生產鏈對該經濟的本地生產總值（以市價計算）的貢獻是多少？

- A. \$8,500
- B. \$12,500
- C. \$15,500
- D. \$16,500

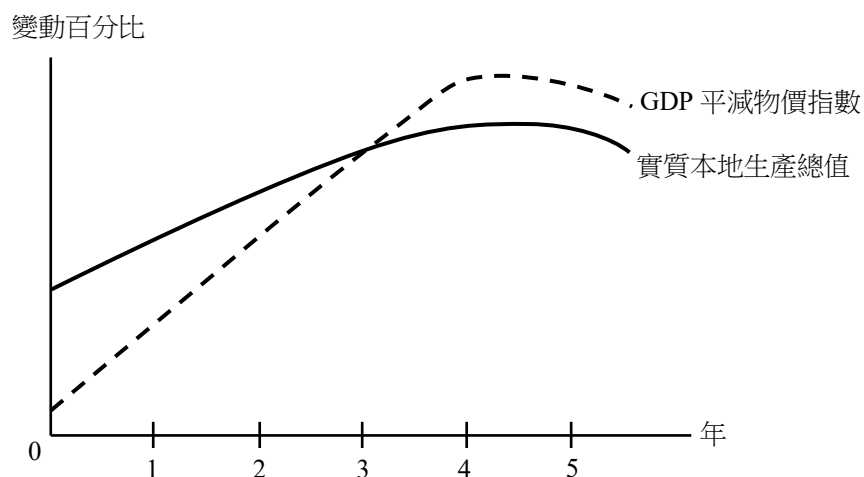
24. 以下哪些應包括在香港的本地居民總收入？

- (1) 一名巴西足球教練在香港工作 16 個月所收取的薪金
  - (2) 一名居住在加拿大的香港投資者從他持有的香港物業收取的租金收入
  - (3) 香港經紀替客戶交易股票所賺取的佣金
- A. 只有(1)、(2)
  - B. 只有(1)、(3)
  - C. 只有(2)、(3)
  - D. (1)、(2)及(3)

25. 若某經濟的本地居民總收入下降而本地生產總值上升，則海外要素收入淨值

- \_\_\_\_\_。
- A. 是負數
  - B. 是值數
  - C. 上升
  - D. 下降

26. 下圖顯示某國的經濟數據。

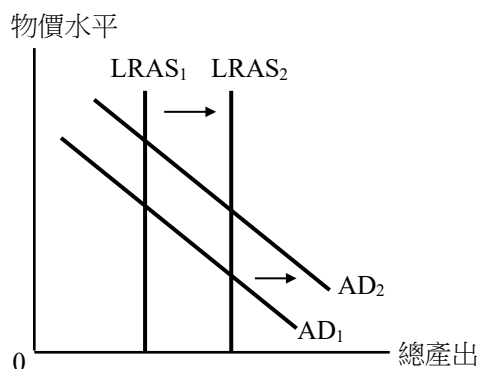


根據以上資料，我們可得出以下結論：

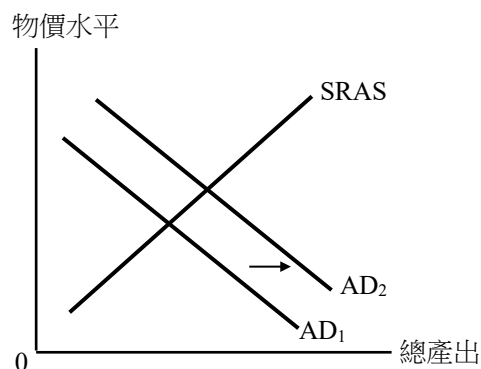
- (1) 第3年的名義本地生產總值增長率與實質本地生產總值增長率相同。
  - (2) 名義本地生產總值在第1年至第5年持續上升。
  - (3) 物價水平在第1年至第5年持續上升。
- A. 只有(1)、(2)
  - B. 只有(1)、(3)
  - C. 只有(2)、(3)
  - D. (1)、(2)及(3)

27. 某國的財政部長建議增加納稅人的子女免稅額；同時，政府增加輸入外地勞工的配額。下列哪一幅圖最能說明上述政策對物價與產出水平的影響？

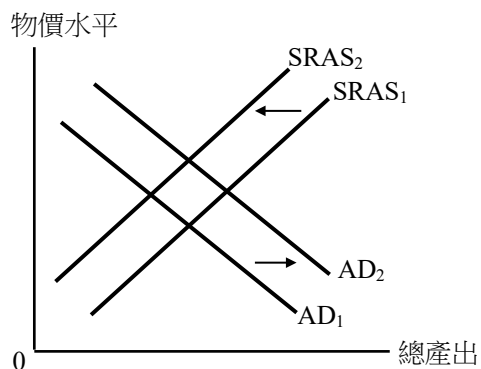
A.



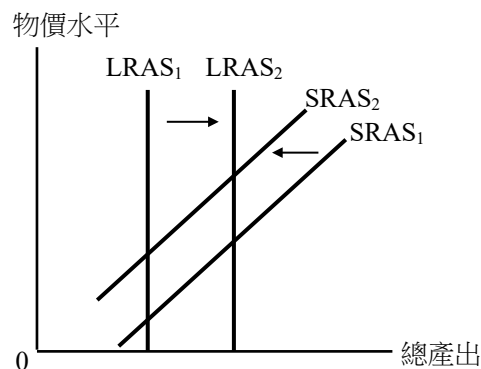
B.



C.



D.

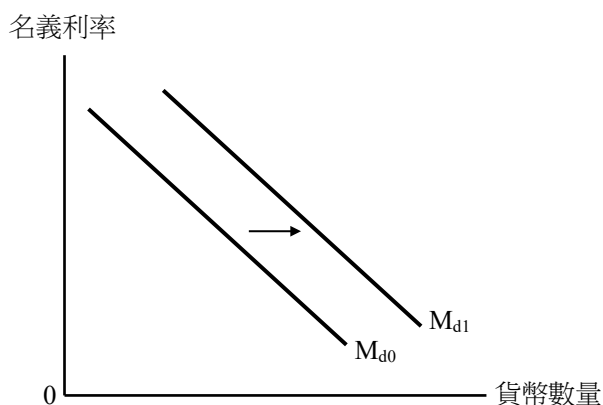


28. 乙國把大部分物品和服務的一般銷售稅稅率由 8% 下調至 5%，而該銷售稅同時適用於本地與外地消費者。結果，

- (1) 總需求增加。
- (2) 收入不均更嚴重。
- (3) 政府會有財政赤字。
- (4) 無形貿易差額可能減少。

- A. 只有(1)、(2)
- B. 只有(1)、(3)
- C. 只有(1)、(4)
- D. 只有(2)、(4)

29. 細閱下圖。



下列哪項會導致上述貨幣需求的變動？

- A. 預期通脹率上升。
  - B. 股市波動減少。
  - C. 中央銀行下調貼現率。
  - D. 住戶的可支配收入上升。
30. 假設一年期債券的名義利率是 3%，而預期通縮率是 2%。若物價水平實際上升 1%，持有現金的機會成本是 \_\_\_\_\_，而持有現金的實際實質回報率分別是 \_\_\_\_\_。
- A. 3% …… 5%
  - B. 3% …… -1%
  - C. 4% …… 5%
  - D. 4% …… -1%
31. 某以物易物經濟轉為使用貨幣進行交易。以下哪項陳述是不正確的？
- A. 較容易找到交易對象。
  - B. 涉及未來債務的交易變得更困難。
  - C. 買與賣可分開進行。
  - D. 議定交換比率所需時間較短。

32. 假設政府向銀行系統注入\$1,000。經過信貸創造過程後，銀行系統的存款額增加\$5,000。根據以上資料，我們可得出以結論：
- A. 法定儲備比率為 20%。
  - B. 銀行沒有保留超額儲備。
  - C. 貸款增加至少\$4,000。
  - D. 信貸創造過程中出現現金流失。

33. 下表顯示某銀行系統的資產負債表，而銀行並沒持有超額儲備。

資產 (\$)		負債 (\$)	
儲備	400	存款	2,000
貸款	1,600		

若存戶從銀行提取了\$150 並以現金形式持有，則貸款的最大可能減少是 \_\_\_\_\_。

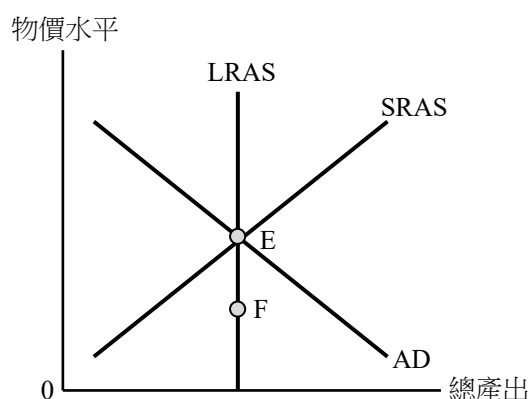
- A. \$600
  - B. \$750
  - C. \$1,600
  - D. \$1,850
34. 下表顯示甲國的資料：

	2024 年 4 月	2025 年 4 月
貨幣供應按年變動百分比	2%	10%
消費物價指數	125	135

根據貨幣數量論，2024 年 4 月至 2025 年 4 月的實質產出增長率是 \_\_\_\_\_。

- A. 0%
- B. 2%
- C. 8%
- D. 16%

35. 甲國的官員建議由 2025 年 1 月 1 日起，將離境稅由\$0 上調至\$50，由航空公司向每位離境旅客收取。該離境稅屬於 \_\_\_\_\_，因為 \_\_\_\_\_。
- 累進稅 …… 航空公司可把稅項負擔轉嫁給旅客
  - 比例稅 …… 不論旅客的收入多少，稅款都是相同的
  - 比例稅 …… 它符合亞當史密夫提出的公平徵稅原則
  - 累退稅 …… 旅客的收入愈高，其繳交的稅率便愈低
36. 假設中央銀行下調法定儲備比率。以下哪些項可抵銷對均衡利率的影響？
- 中央銀行多印發貨幣。
  - 勞工工資由每週發放改為每兩週發放。
  - 投資股市的風險上升。
- 只有(1)、(2)
  - 只有(1)、(3)
  - 只有(2)、(3)
  - (1)、(2)及(3)
37. 下圖顯示某經濟的總需求 (AD) 曲線、短期總供應 (SRAS) 曲線和長期總供應 (LRAS) 曲線。



假設該經濟原初於 E 運作。下列哪項可能導致長期均衡點由 E 改變為 F？

- 中央銀行在公開市場買入政府債券。
- 政府向企業的研發提供補貼。
- 政府減少轉移支付。
- 能源價格下降。

38. 珍妮以現金向明華買入一張由接受存款公司發行、面值 200,000 港元的可轉讓存款證。明華其後把 50,000 港元存入往來戶口、100,000 港元存入儲蓄戶口，並把餘額匯往海外。

上述行動對港元貨幣供應有甚麼即時影響？

- A. 貨幣供應定義一上升，而貨幣供應定義二不變。
- B. 貨幣供應定義一維持不變，而貨幣供應定義三下降。
- C. 貨幣供應定義二和貨幣供應定義三以相同金額下降。
- D. 貨幣供應定義一、貨幣供應定義二、貨幣供應定義三以相同金額下降。

39. 下列哪項同時令某經濟的就業水平上升及物價水平下降？

- A. 中央銀行提高法定儲備比率。
- B. 政府派發消費券。
- C. 政府下調利得稅稅率。
- D. 進口石油的價格下降。

40. 下表顯示甲、乙兩國生產成衣與手錶所需的工時。

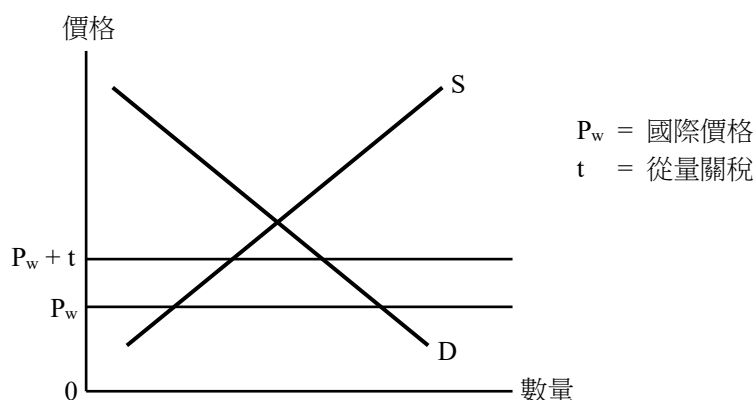
	1 單位成衣	1 單位手錶
甲國	4	8
乙國	5	20

根據以上資料，以下哪幾項陳述是正確的？

- (1) 甲國生產成衣有絕對優勢。
  - (2) 乙國生產手錶有比較劣勢。
  - (3) 若 1 單位成衣的運輸成本為 0.25 單位手錶，便不可能達成互利貿易。
- A. 只有(1)、(2)
  - B. 只有(1)、(3)
  - C. 只有(2)、(3)
  - D. (1)、(2)及(3)

41. 在國際貿易中，比較優勢決定貿易國的 \_\_\_\_\_。
- A. 貿易得益
  - B. 進出口數量
  - C. 貿易方向
  - D. 貿易價格比率

42. 下圖顯示某小型開放經濟中物品 X 的市場。該經濟對物品 X 徵收了從量關稅。



若政府下調該從量關稅，物品 X 的

- A. 關稅收入會減少。
  - B. 國際價格會下降。
  - C. 本地消費量會維持不變。
  - D. 本地產量會減少。
43. 某香港公司為慶祝公司周年紀念，安排員工到西班牙旅遊及觀看足球聯賽。以下哪些會包括在香港國際收支平衡的計算？
- (1) 從香港某航空公司購買前往西班牙機票的開支
  - (2) 在西班牙酒店的住宿開支
  - (3) 公司東主為日後員工旅遊在西班牙購買住宅物業的金額
- A. 只有(1)、(2)
  - B. 只有(1)、(3)
  - C. 只有(2)、(3)
  - D. (1)、(2)及(3)

44. 下表顯示港元兌歐元匯率的變動。

	匯率
2024 年 1 月 8 日	100 港元 = 12 歐元
2025 年 1 月 8 日	100 港元 = 11 歐元

上述港元兌歐元匯率的變動會引致

- A. 歐元兌美元升值。
  - B. 香港出口往歐洲的物品競爭力下降。
  - C. 歐洲出口往香港的物品總值（以港元計算）下降。
  - D. 香港出口往歐洲的物品總值（以港元計算）上升。
45. 以下哪項有關香港聯繫匯率制度的陳述是正確的？
- A. 香港的貨幣供應由美元全數支持。
  - B. 香港金融管理局持有相當數量的外匯儲備。
  - C. 香港的商業銀行可按聯繫匯率向香港金融管理局兌換美元。
  - D. 港元兌美元的市場匯率是固定不變的。

試卷完

培進經濟科  
香港中學文憑考試  
模擬試卷（2026年3月版）（樣本）

經濟試卷二

兩小時三十分完卷

本試卷必須以中文作答。

說明

1. 本試卷共分為甲部、乙部和丙部。甲部和乙部試題均須回答。丙部只須回答其中一題。
2. 必須把答案寫在預留的空位內。不可在各頁邊界以外的位置書寫。寫於邊界以外的答案，將不予評閱。

作者：潘勁勉、區政廉

甲部 (44 分)

1. 細閱以下資料。

源·區是香港一個處理污泥的設施。它把焚化過程中產生的熱能轉化為電力。它也會舉行導賞團向公眾介紹園內設施。

源·區涉及哪些類別的生產？解釋你的答案。 (4 分)

-----

-----

-----

-----

-----

-----

-----

-----

-----

-----

-----

-----

-----

-----

-----

-----

-----

-----

-----

-----

-----

-----

-----

2. 下表顯示某廠商投入與產出的關係。

機器 (單位)	勞力 (單位)	勞力平均產量 (單位)
2	1	15
2	2	16
2	3	16
2	4	16

- a. 寫出邊際回報遞減定律，並解釋上述資料能否說明該定律。 (5 分)
- b. 「一家以利潤極大化為目標的廠商在邊際報酬遞減出現時，便不會增加產量。」解釋你是否同意有關陳述。 (2 分)

A large rectangular area with a solid black border, containing 25 horizontal dashed lines for writing.



4. a. 一名經濟學家建議採用配額而不是關稅來限制進口。提出一個原因，支持這建議。 (2分)

b. 某小型開放經濟對進口咖啡豆實施有效配額。假設世界價格上升而配額仍然有效。以上改變對項目(i)、(ii)和(iii)有甚麼影響？從下列選項中選出一個填入空格。 (3分)

上升	下降	不變	不確定
----	----	----	-----

	項目	影響
(i)	本地售賣的咖啡豆價格	
(ii)	本地生產的咖啡豆數量	
(iii)	本地消費的咖啡豆數量	





7. 下表顯示某國在某年有關國際收支平衡的資料：

項目	十億元
物品差額	300
服務差額	X
海外要素收入淨值	-40
經常轉移淨值	-120
資金淨流入	180

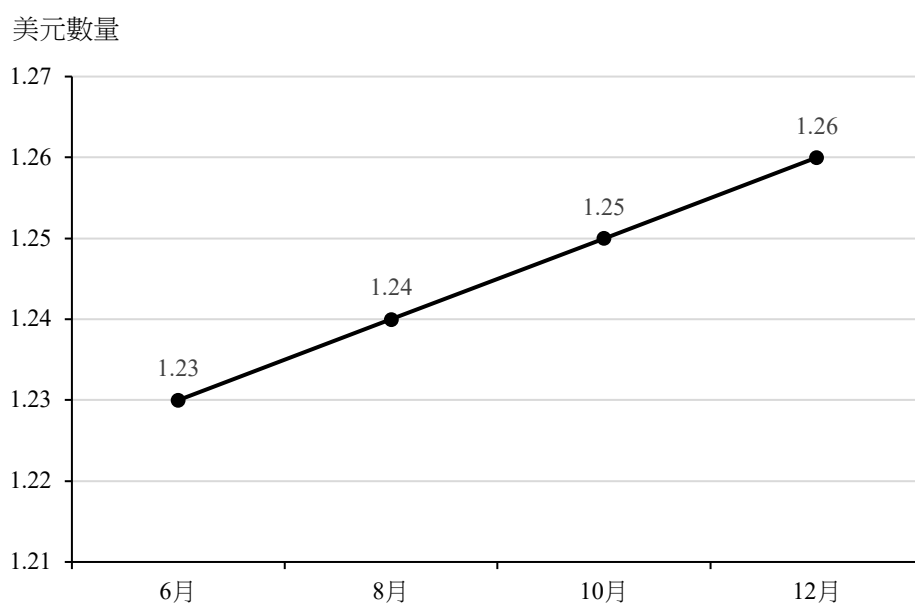
- a. 若該國的國際收支平衡是 50 十億元，計算 X 的值。 (1 分)
- b. 「該國的外匯儲備在該年增加了。」解釋你是否同意這陳述。 (2 分)
- c. 該國原為某貿易組織的成員，其他成員國的居民毋須簽證便可到該國旅遊或工作。去年該國退出該貿易組織，並要求到該國旅遊或工作的外地居民須取得簽證。解釋此舉如何影響該國國際收支平衡經常帳中的其中兩個組成部分。 (4 分)

Blank writing area with horizontal dashed lines.

甲部完

乙部 (60 分)

8. 下圖顯示在 2025 年，1 瑞士法郎可兌換的美元數量：



- a. 假設瑞士手錶的價格（以瑞士法郎計算）不變。以圖三輔助，解釋以上匯率的改變如何影響瑞士出口到香港的手錶的的出口總值（以瑞士法郎計算）。 (8 分)

圖三



- b. 若某瑞士手錶公司於 2025 年的出口收入為 100 萬瑞士法郎，舉出兩個原因，解釋為何該公司對瑞士於 2025 年本地生產總值的貢獻可能多於 100 萬瑞士法郎。 (4 分)
- c. 假設瑞士的出口總值下降。解釋其貿易差額是否必然惡化。 (4 分)

A large rectangular area with a solid black border, containing numerous horizontal dashed lines for writing.



A large rectangular area with a solid black border, containing 25 horizontal dashed lines for writing.

10. 教育對香港的發展非常重要。香港的高等教育由政府透過大學教育資助委員會（教資會）提供資助。

**資料 A：**教資會資助的全日制學士學位課程學費

學年	每名學生每學年學費
2024/25	\$42,100
2025/26	\$44,500
2026/27	\$47,000

**資料 B：**2025 年大學聯合招生辦法下教資會資助的全日制學士學位課程的錄取分數例子

大學	課程	中位錄取分數
大學 A	工商管理學士（經濟與金融）	23
大學 B	社會科學學士（榮譽）（經濟學）	26.4
大學 C	經濟與金融學學士	40

**資料 C：**兩名學生以教資會資助課程為題的對話

學生甲：香港政府每年只提供 15,000 個教資會資助全日制學士學位學額。  
學生乙：是的。但申請人數量遠超這學額！

**資料 D：**關於吸引較多非本地學生來香港升學的意見

勞工及福利局的發言人	香港正面對勞力短缺問題，預計這短缺會加劇。吸引更多非本地學生來香港升學，能為香港提供額外的勞動力。
某本地大學的發言人	政府應該於大學附近增建青年宿舍，以滿足非本地學生的住屋需要。
某政界人士	公帑應用於向市民發放現金，而不是用來為非本地學生興建更多青年宿舍。
在本地大學就讀的內地學生	香港的生活成本太高，我畢業後計劃到上海或深圳找工作。

a. 參考資料 A 和 B。

- i. 「價格競爭是決定教資會資助全日制學士學位學額分配的唯一準則。」你是否同意這陳述？解釋你的答案。 (2 分)
- ii. 「全日制學士學位學額或未能分配到最高價值用家。」提出一項理由，解釋這陳述。 (2 分)

b. 參考資料 C。

- i. 在圖四，以一幅供需圖輔助，說明資料 C 所顯示的經濟現象。 (2 分)
- ii. 以圖四輔助，解釋教資會資助課程的學費如資料 A 所示的改變，會如何影響學生的學費總支出。 (3 分)

圖四



c. 就資料 D 中的政界人士的建議，分別提出正反論點。 (5 分)

學生須以短文形式回答(d)部。評分準則包括運用資料及經濟理論、內容切題、鋪排合乎邏輯以及表達清晰。

d. 為吸引較多非本地學生來香港升學，政府推出下列措施：

措施 1	提高非本地學生的收生人數上限
措施 2	實施「非本地畢業生留港／回港就業安排」，容許非本地生在香港逗留最長 24 個月找尋工作

參考以上各項資料，並就你對經濟學的認識，分別討論上述兩項措施對香港經濟在以下方面的影響：

- 總產出
- 勞工短缺
- 財政結餘

(14 分)

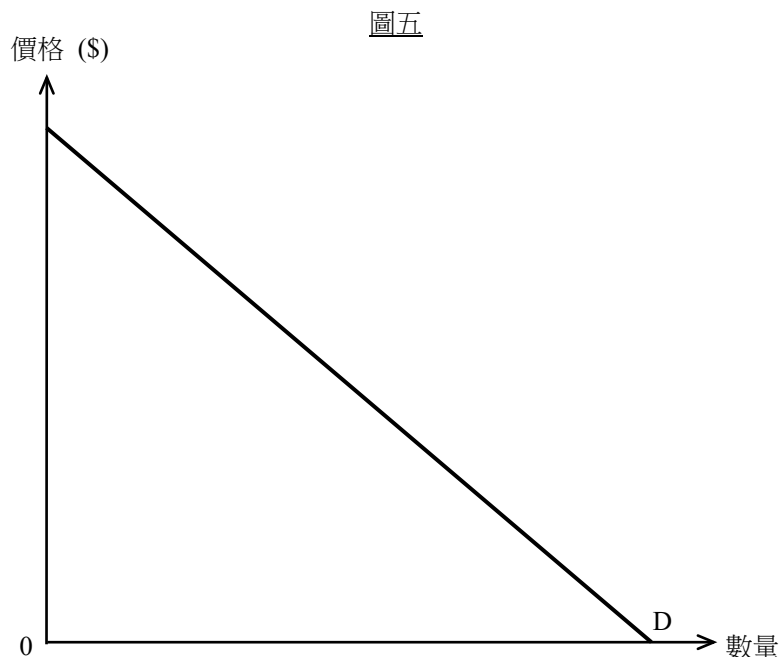
A large rectangular area with a solid black border, containing 25 horizontal dashed lines for writing.

Blank writing area with horizontal dashed lines.

乙部完

丙部 (16 分) 選答一題。

11. QQ 公司為 X 市唯一的流動網服務供應商，其生產的平均成本是固定的，並採用簡單壟斷定價。圖五顯示市場需求曲線 (D)。



以圖五輔助，

- a. i. 解釋 QQ 公司如何決定產量及價格以爭取最大利潤。並分別以  $Q_m$  和  $P_m$  標示該產量及價格。
- ii. 解釋為何簡單壟斷定價可能導致無效率。 (6 分)
- b. 某新落成的屋苑正準備入伙。以下是兩個寬頻服務供應商的對話：

甲供應商：不如這樣 —— 我負責推廣，並為第 1 至 3 座大廈提供服務，而你則負責第 4 至 6 座。

乙供應商：這主意聽起來相當不錯。

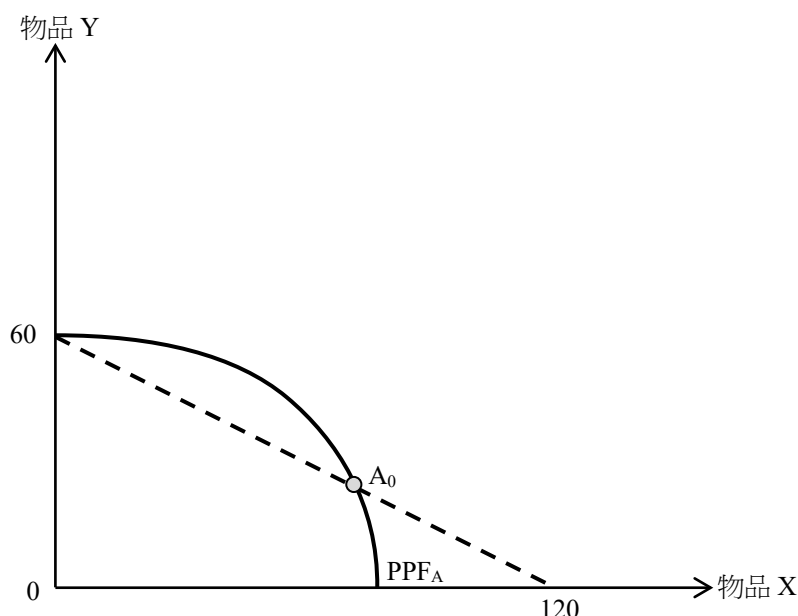
- i. 在上述兩個寬頻服務供應商的對話中出現哪一種反競爭行為？ (1 分)
- ii. 若上述個案發生於香港，兩個服務供應商可能違反了《競爭條例》中哪一項行為守則？解釋你的答案。 (2 分)
- iii. 該兩個服務供應商的協議未必會構成反競爭。提出一個理由，論證這說法。 (2 分)
- c. 某智能電話製造商在墨西哥（墨西哥版）及美國（美國版）出售其最新型號的智能電話。假設墨西哥版和美國版在硬件及軟件方面完全相同，但美國版的價格為墨西哥版的三倍。
- i. 甚麼是價格分歧？ (2 分)
- ii. 上述個案是否構成價格分歧？解釋你的答案。 (3 分)

A large rectangular area with a solid black border, containing 25 horizontal dashed lines for writing.

A large rectangular area with a solid black border, containing 25 horizontal dashed lines for writing.

12. 圖六顯示甲國的生產可能線（ $PPF_A$ ）， $A_0$ 是沒有進行貿易時的生產點。

圖六



a. 解釋為何甲國的生產可能線並非一條直線。 (2分)

假設在  $A_0$ ，甲國生產 1 單位物品 X 的機會成本是 1 單位物品 Y，而虛線的斜率代表物品 X 的世界價格。

b. i. 若甲國參與國際貿易，解釋它會進口還是出口物品 X。 (2分)

ii. 計算甲國每交易 1 單位物品 X 的貿易得益。 (1分)

c. 在圖六，分別以  $P_A$  和  $CPF_A$  標示甲國參與國際貿易後的生產點和消費可能線。 (2分)

d. 假設甲國選擇在貿易後消費與貿易前相同數量的物品 X。在圖六

i. 以  $C_A$  標示甲國的消費點； (1分)

ii. 分別以 IM 和 EX 標示甲國的進口量和出口量。 (2分)

e. 假設物品 X 的世界價格上升至原來的兩倍。解釋甲國的貿易方向會否受到影響。 (2分)

f. 為避免氣候變化帶來的負面影響，甲國政府增加對可再生能源生產的補貼。解釋該政策如何影響該國的經濟增長及經濟發展。 (4分)

A large rectangular area with a solid black border, containing numerous horizontal dashed lines for writing.

Blank lined area for writing.

試卷完

培進經濟科  
香港中學文憑考試  
中四期終試卷（2026年3月版）（樣本）

經濟試卷一

40 分鐘完卷

說明

1. 當試場主任宣布開卷後，考生應檢查卷內題目是否齊全。在最後一題後應有「**試卷完**」的字眼。
2. 本試卷各題佔分相等。
3. 本試卷全部試題均須回答。
4. 每題只可填寫一個答案，若填寫多於一個答案，則該題不給分。
5. 答案錯誤，不另扣分。

本試卷共有 30 題，選出每題的最佳答案。

1. 下列哪一項陳述是正確的？
  - A. 只要短缺存在，就必然出現稀少性。
  - B. 只要稀少性存在，就必然會出現短缺。
  - C. 當市場供應增加時，稀少性便會被消除。
  - D. 只有在價格為零時，稀少性才會出現。
  
2. 一名學生正考慮使用其閒暇時間報讀網上編程課程或在咖啡店做兼職。若 \_\_\_\_\_，報讀課程的機會成本會下降。
  - A. 學習編程比預期沉悶
  - B. 在咖啡店工作的工資上升
  - C. 課程的學費下降
  - D. 上網月費增加
  
3. 下列哪（幾）項關於利息的陳述是正確的？
  - (1) 在以物易物經濟中，利息仍可能存在。
  - (2) 當沒有通脹時，由於物價穩定，利息會消失。
  - (3) 在計劃經濟中，利息並不存在，因為由政府作經濟決策。
  - A. 只有(1)
  - B. 只有(1)、(2)
  - C. 只有(2)、(3)
  - D. (1)、(2)及(3)
  
4. 由 2026 年 3 月 1 日開始，住宅樓宇分間單位須滿足相關的最低標準並獲認證為「簡樸房」，方可合法出租作居住用途。  
2026 年 3 月 1 日後，擁有一個分間單位的業主的 \_\_\_\_\_ 會被削弱。
  - (1) 使用權
  - (2) 獲取收入權
  - (3) 轉讓權
  - A. 只有(1)
  - B. 只有(2)
  - C. 只有(1)、(2)
  - D. 只有(2)、(3)

5. 某政府免費派發可重用水瓶。結果，市民須排隊以獲得水瓶，但許多人未能獲得。下列哪項陳述是正確的？
- A. 這些水瓶是免費物品，因為它們是免費派發的。
  - B. 這些水瓶是經濟物品，因為市民須要排隊以獲得。
  - C. 這些水瓶是共用品，因為是由政府派發的。
  - D. 以上各項均不正確。
6. 港鐵推出的「全月通」讓乘客在有效月份內無限次往來指定車站，並可透過「MTR Mobile」購買。下列哪些是實證性陳述？
- (1) 讓乘客可透過「MTR Mobile」購買「全月通」會增加其需求。
  - (2) 持有「全月通」的乘客的乘車次數可能上升。
  - (3) 透過「MTR Mobile」售賣「全月通」是刺激銷量的最合適方法。
  - (4) 港鐵應降低「全月通」的價格，以惠及低收入乘客。
- A. 只有(1)、(2)
  - B. 只有(3)、(4)
  - C. 只有(1)、(2)、(3)
  - D. 只有(2)、(3)、(4)
7. 某政府決定在農地上興建物流中心。這涉及經濟學中的 \_\_\_\_\_ 問題。
- A. 「生產甚麼」
  - B. 「如何生產」
  - C. 「生產甚麼」及「如何生產」
  - D. 「生產甚麼」及「為誰生產」

8. 下表顯示甲國不同生產類別的生產總值佔本地生產總值的比重。該國 2026 年的本地生產總值低於 2025 年。

	2025 年	2026 年
初級生產	19%	7%
二級生產	30%	30%
三級生產	51%	63%
整體	100%	100%

根據上表，我們可以得出以下結論：由 2025 年至 2026 年，

- A. 甲國三級生產的生產總值增加。
  - B. 甲國二級生產對勞動市場的貢獻維持不變。
  - C. 甲國初級生產的就業人數減少。
  - D. 三級生產對甲國經濟變得更加重要。
9. 香港一家手機維修店將其生產劃分為不同工序，包括檢查、零件訂購、維修和品質檢測。這是 \_\_\_\_\_ 生產及 \_\_\_\_\_ 分工的例子。
- A. 二級 …… 簡單
  - B. 二級 …… 複雜
  - C. 三級 …… 簡單
  - D. 三級 …… 複雜
10. 酒店是一個提供住宿服務的生產單位。以下是一些酒店常見的人物和物件：
- (1) 住客
  - (2) 供住客使用的天台花園
  - (3) 酒店利用太陽能板收集的太陽能
  - (4) 酒店經理私人擁有的住宅單位
- 下列哪（幾）項是酒店的資本？
- A. 只有(2)
  - B. 只有(2)、(3)
  - C. 只有(3)、(4)
  - D. 只有(1)、(2)、(4)

11. 參考以下某廠商的資料：

	第一年	第二年
工人數目（人）	220,000	200,000
每名工人平均工作時數（小時）	8	9
總產出（單位）	8,800,000	9,360,000

下列哪項是該廠商平均勞工生產力出現上述改變的可能原因？

- A. 該廠商在第二年使用較少機器。
  - B. 該廠商在第二年僱用較少勞工服務。
  - C. 該廠商在第二年為工人提供更多培訓。
  - D. 該廠商在第二年取消了工人的進修津貼。
12. 在許多國際巡迴演唱會中，表演者通常按演唱會淨利潤的百分比收取報酬，而不是收取固定收入，因為
- A. 表演者不喜歡固定收入。
  - B. 演唱會主辦單位難以計算淨利潤。
  - C. 演唱會主辦單位可把部分經營風險轉嫁予表演者。
  - D. 表演者可獲得更穩定及可預測的收入。
13. 下表顯示某廠商的平均產出，該廠商生產時只採用勞工和資本。

勞工（單位）	資本（單位）	平均產出（單位）
1	9	40
2	9	49
3	9	59
4	9	X
5	9	63

若勞工的邊際產出在第 3 單位勞工加入工作行列後開始遞減，X \_\_\_\_\_。

- A. 可以是 60
- B. 可以是 63
- C. 可以是 64
- D. 無法確定

14. 下表顯示某廠商的成本與產出關係：

產出（單位）	總成本（\$）
0	3
1	6
2	11
3	15
4	18
5	20

根據上表，我們可以得出結論：

- A. 當產出為 3 單位時，平均固定成本為\$5。
- B. 該廠商享有規模經濟。
- C. 該廠商的最優生產規模是 5 單位。
- D. 以上各項均不正確。

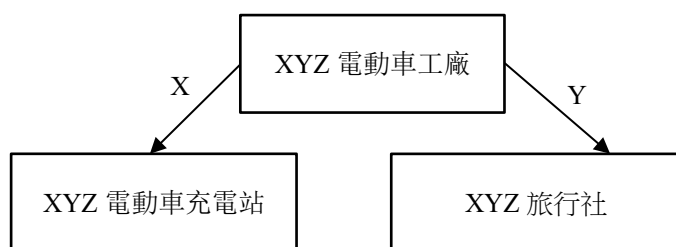
15. 下表顯示某受價廠商的成本與產出關係：

產出（單位）	平均成本（\$）
2	18
3	19
4	20
5	22
6	25

假設產品價格為\$23，廠商的固定成本為\$6。該廠商的利潤極大化產出及最大的生產者盈餘分別是多少？

- A. 4 單位和\$18
- B. 4 單位和\$23
- C. 5 單位和\$11
- D. 5 單位和\$30

16. XYZ 電動車工廠的業務擴張如下：



對 XYZ 電動車工廠來說，X 與 Y 所展示的擴張類型分別是 \_\_\_\_\_ 擴展和 \_\_\_\_\_。

- A. 前向 …… 側向
- B. 前向 …… 集團
- C. 後向 …… 側向
- D. 後向 …… 集團

17. 參考以下香港甲廠商及乙廠商的資料：

	甲廠商	乙廠商
東主數目	5	1
擁有權的轉讓	需要其他東主同意	<b>毋須</b> 其他東主同意
向公眾披露財務資料	不需要	需要

根據上表，下列哪項關於甲廠商及乙廠商的描述是正確的？

- A. 甲廠商比乙廠商更容易籌集資金。
- B. 乙廠商是獨立法人，而甲廠商可能不是。
- C. 乙廠商比甲廠商繳交較高的利得稅稅率。
- D. 乙廠商享有經營延續性，而甲廠商沒有。

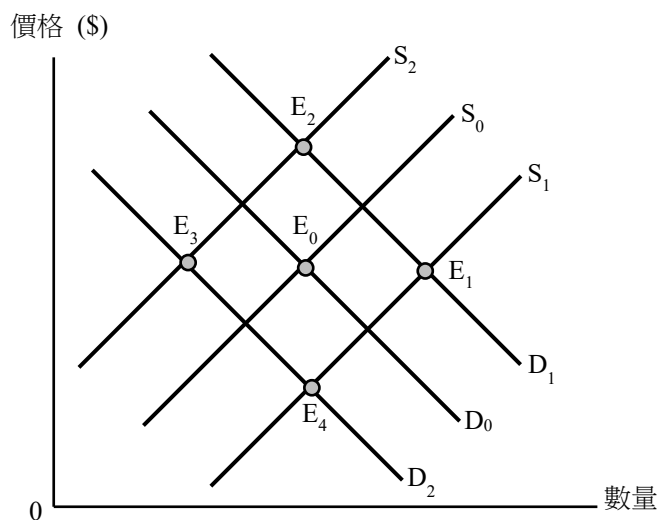
18. 一家在完全競爭市場的廠商的產量高於利潤極大化水平。下列哪項陳述是正確的？

- A. 該廠商的平均收入高於其平均成本。
- B. 減少產量會增加其利潤。
- C. 最後一單位產出的邊際成本低於市場價格。
- D. 總收入少於總成本。

19. 香港巴士行業的市場結構是

- A. 完全競爭，因為有許多巴士路線。
- B. 壟斷，因為每區只有一家巴士公司提供服務。
- C. 寡頭壟斷，因為少數大型的巴士公司主導市場，而它們的定價策略相互影響。
- D. 壟斷性競爭，因為每家巴士公司提供略有不同的巴士服務。

20. 下圖顯示經濟科教科書的供需曲線，原初的均衡點是  $E_0$ 。



假設學校縮減經濟科班級人數。同時，紙張供應增加。結果，新的均衡點會是

\_\_\_\_\_。

- A.  $E_1$
- B.  $E_2$
- C.  $E_3$
- D.  $E_4$

21. 若電動滑板車的價格下降，下列哪幾項陳述是正確的？
- (1) 單車的需求量會下降。
  - (2) 滑板車電池的供應量會增加。
  - (3) 滑板車充電站的需求會增加。
  - (4) 電動滑板車的需求會增加。
- A. 只有(1)、(3)  
B. 只有(2)、(4)  
C. 只有(1)、(2)、(3)  
D. (1)、(2)、(3)及(4)
22. 天氣炎熱時，電解質飲品價格改變了 15%，而交易量則改變了 12%。電解質飲品的 \_\_\_\_\_ 屬 \_\_\_\_\_。
- A. 需求 …… 高彈性  
B. 需求 …… 低彈性  
C. 供應 …… 高彈性  
D. 供應 …… 低彈性
23. 一家咖啡店以 80,000 元成功投得繁忙地區的週末快閃空間，該價格為起標價的兩倍。
- 上述個案說明了價格的 \_\_\_\_\_ 功能，因為 \_\_\_\_\_。
- A. 配給 …… 當投標價上升時，對快閃空間的需求會下降  
B. 配給 …… 快閃空間分配予願意支付最高價格的用家  
C. 分配 …… 資源被分配至利潤較高的用途  
D. 分配 …… 投標令快閃空間的售價更高

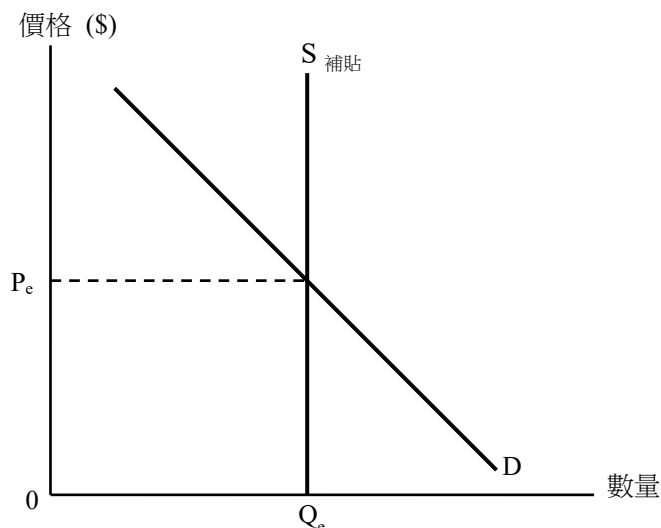
24. 參考以下物品 X 的供需表：

單位價格 (\$)	10	14	18	22	26
需求量 (單位)	140	120	95	70	50
供應量 (單位)	40	70	95	120	150

下列哪項關於物品 X 市場的陳述是正確的？

- A. 若價格上限設於\$22，物品 X 的交易量為 70 單位。
- B. 若價格下限設於\$26，物品 X 賣方收取的總收益會增加\$410。
- C. 若徵收每單位\$8 的從量稅，消費者每單位物品 X 的稅項負擔為\$8。
- D. 若配額設於 70 單位，消費者在物品 X 的新總支出為\$980。

25. 參考下圖某物品在政府提供從量補貼後的供需圖：



假設政府增加對該物品的從量補貼，生產者的補貼得益 \_\_\_\_\_。

- A. 會增加
- B. 會減少
- C. 會維持不變
- D. 會增加、減少或維持不變，視乎補貼的增幅

26. 甲國實施最低工資。其後在經濟繁榮期間，許多廠商擴展業務。若最低工資維持不變，下列哪項陳述是正確的？
- 有效率的就業水平會維持不變。
  - 新的均衡就業水平會低於有效率水平。
  - 效率損失可能會消失。
  - 以上各項均不正確。
27. 下列哪一項是私人與社會利益分歧的例子？
- 一名屋主在屋頂安裝太陽能板以收集太陽能用以發電，並允許鄰居免費使用這些電力。
  - 一名乘客阻塞車門，對其他乘客造成延誤。
  - 一名帶位員在戲院工作時觀看正在播放的電影。
  - 一名鄰居播放戶外音樂，滋擾附近居民。
28. 假設下表顯示 2026 年工作職責與經驗水平相近的砌磚工在香港與內地的平均年收入：

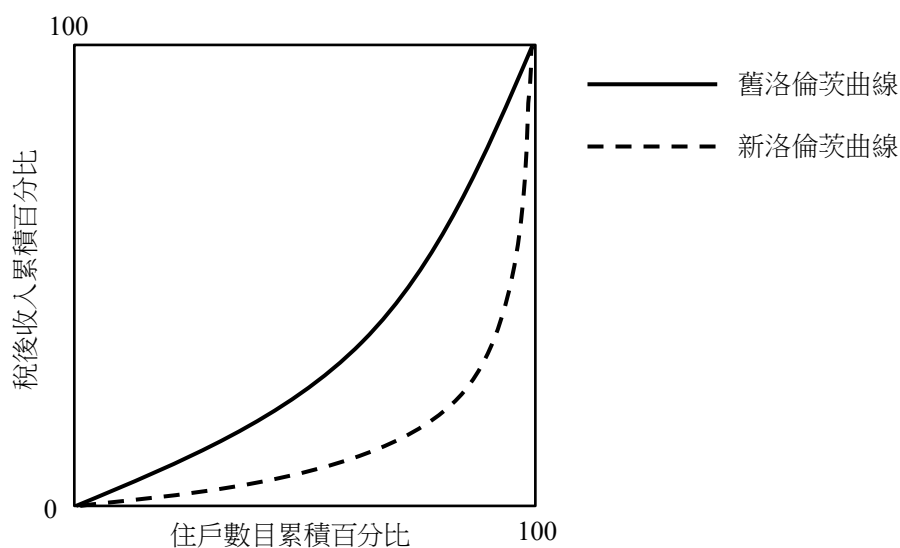
工作地點	平均年收入（港元）
香港	\$440,000
內地	\$290,000

根據以上資料，下列哪些陳述是正確的？

- 建築業內的堅尼系數偏高。
  - 香港與內地的薪俸稅稅率差異或能解釋上述收入差距。
  - 香港建築工程增加或能解釋上述收入差距。
  - 香港較高的生活成本可能導致香港砌磚工的平均年收入較高。
- 只有(1)、(2)
  - 只有(2)、(3)
  - 只有(3)、(4)
  - (1)、(2)、(3)及(4)

29. 某政府補貼住戶安裝節水型瀘水系統的部分費用。下列哪項陳述是正確的？
- A. 該補貼必然可以完全消除節水型瀘水系統消費不足所造成的經濟無效率。
  - B. 透過降低安裝節水型瀘水系統的邊際私人成本，可縮小私人與社會利益的分歧。
  - C. 為了極大化總社會盈餘，政府應全額資助安裝節水型瀘水系統的費用。
  - D. 該補貼會令市場產生新的效率損失。

30. 下圖顯示甲國某年度洛倫茨曲線的改變：



下列哪項陳述是不正確的？

- A. 高收入與低收入住戶的收入可能同時增加。
- B. 累進薪俸稅的稅階可能擴闊了。
- C. 對公共醫療服務的補貼可能減少。
- D. 稅制可能由累進制轉為累退制。

全卷完

培進經濟科  
香港中學文憑考試  
中四期終試卷（2026年3月版）（樣本）

經濟試卷二

一小時十五分完卷

本試卷必須以中文作答。

說明

1. 本試卷共分為甲部和乙部。甲部和乙部試題均須回答。
2. 必須把答案寫在預留的空位內。不可在各頁邊界以外的位置書寫。寫於邊界以外的答案，將不予評閱。

**甲部 (30 分)**

1. 為推廣本地飲食文化及旅遊業，香港政府曾推出美食車先導計劃，容許持牌美食車在指定場地經營。

a. 途人不用付款便可享受美食車製作食物時所散發的香味。解釋香味是否免費物品。 (2 分)

b. 人們有時須要排隊購買美食車的食物。假設這些人的等候時間相同，他們從美食車購買食物的成本是否必然相同？試加解釋。 (3 分)

-----

-----

-----

-

-----

-----

-----

-----

-----

-----

2. 下表顯示某廠商投入與產出關係。

勞力 (單位)	資本 (單位)	勞工的平均產量 (單位)
1	3	15
2	3	26
3	3	30
4	3	31

a. 根據上述資料，解釋為甚麼勞力是可變生產要素。 (1 分)

b. 寫出邊際回報遞減定律，並解釋上述資料能否說明該定律。 (5 分)

-----

-----

-----

-----

-----

---

---

---

---

---

---

---

---

---

---

3. 松齡護老集團有限公司是香港一所私營安老院。它曾是一家上市公司，後來被私有化。
- a. 提出兩項原因，解釋為甚麼松齡護老集團決定被私有化。 (2分)
  - b. 有人建議政府應接管所有安老院，而非交由私人公司營運。提出正反論點各一以討論該建議。 (4分)

---

---

---

---

---

---

---

---

---

---

4. 為鼓勵使用太陽能，某國正考慮向太陽能板供應商提供從量補貼。在甚麼條件下，太陽能板的安裝者享受的補貼得益份額會大於生產者的份額？以圖輔助加以說明。 (7分)

---

---

---

---

---

---

---

---

---

---

5. 香港的珍珠奶茶熱潮持續增長。

- a. 珍珠奶茶店屬於哪一類生產？ (1分)
- b. 香港珍珠奶茶市場屬於哪一種市場結構？列出該市場結構的兩項特點。 (3分)
- c. 提出一個原因，解釋為甚麼顧客不一定會從售價最低的店鋪購買珍珠奶茶。 (2分)

甲部完





A large rectangular area containing 25 horizontal dashed lines, intended for writing answers.

8. 近年來，內地電商平台在香港越來越受歡迎。主要的內地電商平台包括淘寶、京東、拼多多等。

**資料 A：香港設立更多自提點**

由於越來越多香港人從內地網店購物，香港許多店鋪成為自提點。

**資料 B：某內地網店的招聘廣告**

**客戶服務助理**

工作職責：回答顧客查詢

工作時間：上午 10 時至晚上 8 時

薪金：每月¥3,800 – ¥4,200，並按表現發放花紅

**資料 C：香港某社交平台上有關一家內地電商平台運費政策的貼文**



王先生

在 2025 年 8 月，有內地電商平台為大部分運往香港的物品提供免運費服務。在此之前我們須要支付運費！



陳小姐

是的。在免運費政策推出之前，我通常會在該內地電商平台購買泰國米。現在，我購買相對較多價格較低的內地米。

**資料 D：一些有關內地網店的意見**



一位內地網店店主

許多內地網店售賣相似的物品。我們須要不斷推出折扣以增加總收入。



一位店鋪設於香港自提點附近的店主

自提點的包裹和輪候取件的顧客阻塞了我的店鋪入口，到訪我的店鋪的人數大幅減少。



Blank writing area with horizontal dashed lines.

全卷完