


《新高中經濟學探索》(第三版)  
時事應用題 (樣本)

Q19 香港引入三跑道系統

| 相關概念          | 第三版         |
|---------------|-------------|
| 需求和供應變動的影響    | 第 1 冊第 4 課  |
| 商業擁有權的種類和相關好處 | 第 2 冊第 8 課  |
| 生產要素的種類       | 第 2 冊第 10 課 |
| 總需求和總供應變動的影響  | 第 5 冊第 5 課  |



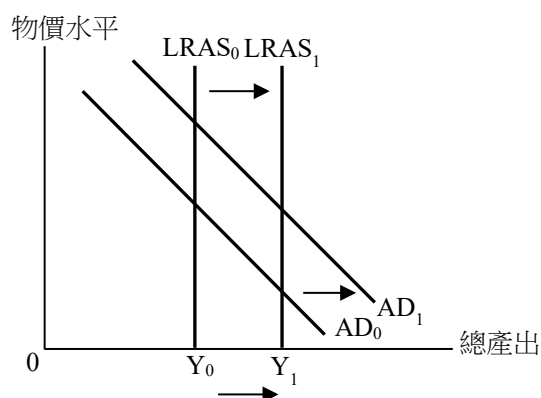
香港國際機場新落成的三跑道系統啟用，預計該系統將促進香港的轉口並吸引更多廉價航空公司。機場管理局機場運行執行總監姚兆聰預計，三跑道系統啟用後，機票價格將會下降。

**問題**

1. 解釋香港機場的跑道屬哪種生產要素。 (2 分)
2. a. 寫出機場管理局的商業擁有權種類名稱。 (1 分)  
b. 舉出由一家屬以上商業擁有權種類的廠商提供機場服務的兩個好處。 (2 分)
3. 毋須以圖輔助，解釋為甚麼三跑道系統啟用後，機票價格將會下降。(2 分)
4. 假設其他因素不變，三跑道系統對香港的總需求和長期總供應有何影響？對總產出又有何影響？以圖輔助，解釋你的答案。 (8 分)

### 建議答案

1. 它們屬於資本，因為 (1 分)  
它們是用於生產的人造資源。 (1 分)
  
2. a. 公營公司 (1 分)  
b. 好處：
  - 較容易從政府取得有關公眾的資料以供決策之用
  - 可以較低的價格提供穩定的服務
  - 在政府支持下較容易獲取貸款(以上其中兩項或其他合理的答案。1 分 × 2 = 2 分)
  
3. 該系統能吸引更多廉價航空公司，意味航空服務的供應會增加。 (2 分)  
因此，機票價格將會下降。
  
4. 在圖中顯示：
  - 總需求曲線向右移 (1 分)
  - 長期總供應曲線向右移 (1 分)
  - $Y_1 > Y_0$  (1 分)



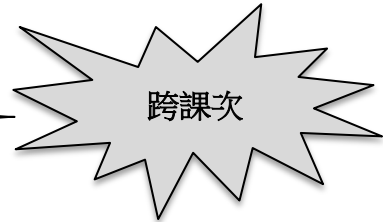
#### 文字解說：

- 該系統會促進香港的轉口。此外，該系統也會吸引更多廉價航空公司，訪港旅客數目會增加。以上兩項均會增加香港的淨出口，令總需求上升。 (2 分)
- 此外，三跑道系統會提升香港的產能，令長期總供應上升。 (2 分)
- 在長期，總產出上升。 (1 分)

《新高中經濟學探索》(第三版)  
時事應用題 (樣本)

Q20 緬甸地震

| 相關概念         | 第三版         |
|--------------|-------------|
| 免費物品、機會成本    | 第 1 冊第 1 課  |
| 共用品          | 第 3 冊第 17 課 |
| 總需求和總供應變動的影響 | 第 5 冊第 5 課  |



緬甸於 3 月 28 日發生 7.7 級強烈地震，至今造成多人傷亡。地震令多棟建築物倒塌，道路、機場等基礎設施的損毀情況嚴重。地震也波及緬甸鄰近國家，泰國曼谷一座建設中的高樓倒塌。

問題

- 多個國際組織向緬甸災民免費派發食物、飲用水、醫療包等物資。解釋這些免費的物資是否
  - 免費物品。 (2 分)
  - 共用品。 (3 分)

- 李先生正考慮如何度過假期，其優先次序如下：

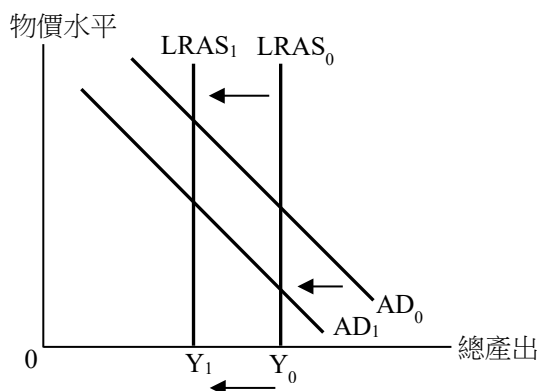
|                 |
|-----------------|
| 第一選項：前往曼谷觀光     |
| 第二選項：前往新加坡觀賞演唱會 |
| 第三選項：前往東京購物     |

解釋地震發生後，李先生前往東京購物的機會成本是否必然維持不變。 (2 分)

- 地震破壞緬甸的基礎建設，當地市民對國家的經濟前景變得悲觀。由於恐怕再出現地震，前往當地的旅客也減少了。  
以圖輔助，解釋地震會如何影響緬甸的長期總產出。 (7 分)

### 建議答案

1. a. 否。人們偏好有更多免費物資，而用於生產這些物資的資源有其他用途。 (2分)
- b. 否。這些物資屬競爭性消費，即一人消費這些物資會減少可供其他人消費的數量。 (3分)
  
2. 否，因為 (1分)  
地震令前往曼谷觀光變得較危險，放棄選項中最高價值者（即前往曼谷觀光）的價值因而下降。 (1分)
  
3. 在圖中顯示：
  - 總需求曲線向左移 (1分)
  - 長期總供應曲線向左移 (1分)
  - $Y_1 < Y_0$  (1分)



### 文字解說：

緬甸市民對國家的經濟發展前景變得悲觀，會令該國的私人消費開支／投資開支減少。地震令前往緬甸的旅客減少了，該國的淨出口會減少。以上兩項會令緬甸的總需求減少。 (2分)

此外，地震破壞緬甸的基礎設施，其長期總供應會減少。 (1分)

在長期，總產出減少。 (1分)

《新高中經濟學探索》(第三版)  
時事應用題(樣本)

Q21 房委會收緊公屋富戶政策

| 相關概念        | 第三版        |
|-------------|------------|
| 三個基本的經濟問題   | 第 1 冊第 2 課 |
| 實證性陳述和規範性陳述 | 第 1 冊第 2 課 |
| 私有產權        | 第 1 冊第 2 課 |



問題

為確保公共房屋資源有效地分配給有住屋需要的人士，房屋委員會(房委會)於 2025 年 10 月起收緊公屋富戶政策。

1. 在新政策下，家庭入息超過現行入息限額兩倍但不高於三倍的住戶，須繳交 2.5 倍淨租金另加差餉。解釋該政策與三個基本經濟問題中的哪一個有關。(2 分)
2. 「政府進一步降低公屋住戶入息限額才是較公平的做法。」解釋這是否實證性陳述。(2 分)
3. 為防止住戶濫用公屋，房委會禁止他們將單位用作非住宅用途。
  - a. 甚麼是私有產權?(1 分)
  - b. 解釋上述規定如何影響公屋住戶對其公屋單位所擁有的私有產權。(3 分)

### 建議答案

1. 「為誰生產」，因為 (1分)  
政策是關於誰可享用公屋的準則。 (1分)
  
2. 否，因為 (1分)  
這涉及價值判斷（即何謂公平）。 (1分)  
或  
這不可被事實推翻。 (1分)
  
3. a. 私有產權是指對私有財產的獨有使用權、收入專屬權及轉讓權。 (1分)  
b. 上述規定削弱了公屋住戶對其公屋單位的私有產權，因為 (1分)
  - 公屋住戶把單位用作非住宅用途（例如用作倉庫）的權利被限制了。
  - 公屋住戶把單位用作非住宅用途（例如營商）來賺取收入的權利被限制了。

（以上其中一項或其他合理的答案。2分）

《新高中經濟學探索》(第三版)  
時事應用題(樣本)

Q22 日圓疲弱 港人排隊兌換遊日

| 相關概念         | 第三版         |
|--------------|-------------|
| 香港的聯繫匯率制度    | 第 6 冊第 14 課 |
| 匯率變動對出口總值的影響 | 第 6 冊第 14 課 |
| 國際收支平衡表      | 第 6 冊第 14 課 |



**問題**

日圓持續疲弱，吸引大批港人計劃到日本旅遊，多家找換店外均出現排隊等候兌換日圓的人潮。

1. 日圓兌美元持續貶值。在香港的聯繫匯率制度之下，日圓兌港元匯率有何改變？ (1 分)
2. 假設日本的貨品和服務的價格沒有改變。以圖輔助，解釋在甚麼情況下，上述匯率變動會導致香港居民到日本旅遊的總支出（以港元計算）減少。 (5 分)
3. 除了無形貿易差額外，解釋日圓貶值對香港國際收支平衡表的另外一項影響。 (2 分)

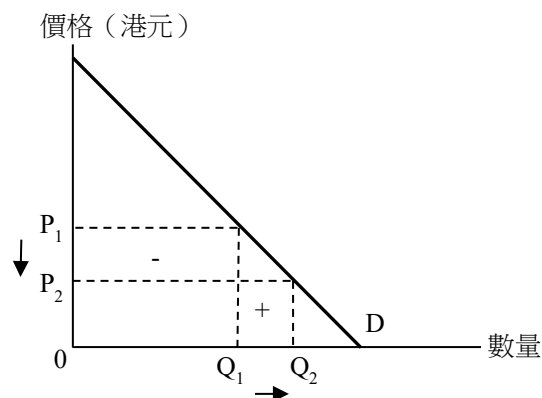
### 建議答案

1. 由於日圓兌美元貶值，在聯繫匯率制度下，日圓兌港元亦會貶值。 (1分)

2. 在圖中顯示：

• 價格下降，數量增加 (1分)

• 總支出的減少 > 總支出的增加 (1分)



文字解說：

日本的貨品和服務的價格（以港元計算）會下降，數量會增加。 (1分)

若香港居民對日本的貨物和服务的需求屬低彈性，價格下降的百分比會大於數量增加的百分比。 (2分)

香港居民到日本旅遊的總支出（以港元計算）會減少。

3. 日本貨品以港元計算的價格下降，導致數量增加。如果香港居民對日本貨物的需求屬彈性，進口價值會上升，導致有形貿易帳戶差額減少。 (2分)

或

香港居民從日本所賺取的要素收入本，在換算回港元時價值會減少。這導致香港的收入帳戶的差額減少。 (2分)

或

香港居民投資日本金融資產（如股票、債券）的成本（以港元計算）下降，吸引香港居民增加對日本金融資產的投資，導致資本流出增加。(2分)