



7. 賽跑比賽中，亞軍的成績是  $9\frac{4}{5}$  秒，和冠軍相差  $1\frac{7}{10}$  秒，冠軍的成績是多少秒？

2分

- A.  $11\frac{1}{2}$  秒    ○ B.  $8\frac{1}{10}$  秒    ○ C.  $10\frac{11}{15}$  秒    ○ D.  $8\frac{3}{5}$  秒

8. 子欣有一疊色紙，其中  $\frac{2}{5}$  是紅色， $\frac{1}{4}$  是藍色， $\frac{3}{10}$  是橙色，這三款色紙中，哪款數量最多？

2分

- A. 紅色    ○ B. 藍色    ○ C. 橙色    ○ D. 無法比較數量


9. 以下哪個數能同時被 2 和 5 整除？


2分


- A. 25    ○ B. 52    ○ C. 55    ○ D. 100


10. 以下哪組竹簽可以圍成一個三角形？

2分

○ A. 

○ B. 

○ C. 

○ D. 

(二) 計算題：計算下列各題，把答案填在答案欄的橫線上。(每題 2 分)

答案欄

11.  $3\frac{1}{8} - 2\frac{3}{4} = ?$

\_\_\_\_\_

2分

12.  $1\frac{1}{2} + \frac{3}{10} + 4\frac{1}{5} = ?$

\_\_\_\_\_

2分

13.  $2\frac{7}{12} - (\frac{7}{9} - \frac{1}{4}) = ?$

\_\_\_\_\_

2分

14.  $(1\frac{1}{6} - \frac{4}{5}) + \frac{1}{3} = ?$

\_\_\_\_\_

2分

15.  $2 - (\frac{6}{7} + \frac{3}{8}) = ?$

\_\_\_\_\_

2分